

پاکستان انٹرنیشنل سکول العزیز یہ جدہ

فیڈرل جوئیر سیکشن

مضمون: اسلامیات جماعت: سوئم

موسم سرما کی چھٹیوں کا کام (2023-2024)

سوال نمبر 1: درست جواب پر دائرہ کا نشان لگائیں۔

1. آخرت میں اچھے کاموں پر کیا ملے گی؟			
جنت	نماز	دوزخ	کچھ بھی نہیں
2. قرآن مجید میں کتنی سورتیں ہیں؟			
20	25	30	14
3. قرآن مجید کتنے عرصے میں نازل ہوا؟			
تیس سال	پچیس سال	تیس سال	بیس سال
4. غار حرا کسی پہاڑ میں واقع ہے؟			
جبل نور	جبل ثور	جبل احد	کوئی بھی نہیں
5. تحسن معاشرت سے کیا مراد ہے؟			
مل جل کر رہنا	لڑائی کرنا	دوستی کرنا	دشمنی
6. حجر اسود کارنگ کیسا ہے؟			

ہرا	سفید	سرخ	سیاہ
7. برے اعمال والے انسان کہاں جائیں گے؟			
کوئی بھی نہیں	باغ میں	جنت میں	دوزخ میں
8. حضور ﷺ نے طائف والوں کے ساتھ کیسا سلوک کیا؟			
بدعادی	دُشمنی کی	دُعا کی	بد لایا

سوال نمبر 2: خالی جگہ پر کریں۔

1. آخرت میں اچھے کاموں پر..... ملے گی۔
2. یہ لڑائی..... کے نام سے مشہور ہے۔
3. برے اعمال والے انسان..... میں جائیں گے۔
4. حجر کا مطلب..... ہے۔
5. حضرت محمد ﷺ ہمیشہ..... کو کھانا کھلاتے تھے۔
6. پہلی وحی نازل ہوئی تو حضور ﷺ کی عمر مبارک..... سال تھی۔
7. حضور ﷺ بیماروں کی..... کرتے تھے۔
8. حسن معاشرت سے مُراد دوسروں کے ساتھ..... کرنے کے ہیں۔

سوال نمبر 3- غلط اور درست کی نشاندہی کریں۔

1. دو عرب قبیلوں کے درمیان مقدس مہینوں میں لڑائی ہوئی۔
2. حضرت ابو طلحہ رضی اللہ تعالیٰ عنہ مہمان کو گھر لے گئے۔
3. دکھ یا مصیبت میں نہ گھبرا کر کہلاتا ہے۔
4. حسن معاشرت سے مراد دوسروں سے اچھا سلوک کرنا ہے۔
5. آپ ﷺ نے طائف والوں سے بدلہ لیا۔
6. زبور حضرت محمد ﷺ پر نازل ہوئی۔
7. آپ ﷺ نے اپنے دشمنوں کو بھی معاف فرما دیا۔
8. مسلمان آخرت کے دن پر ایمان رکھتے ہیں۔

سوال نمبر 4- مختصر جواب دیں۔

س 1: اسلام میں آخرت سے کیا مراد ہے؟

ج:

س 2: قرآن مجید کس نبی پر نازل ہوا؟

ج:

س3: حجر اسود کا مطلب کیا ہے؟

ج:

س4: آخرت میں نیک اعمال کا بدلہ کیسا ملے گا؟

ج:

س5: احسن اور عائشہ کے دروازے پر کس نے دستک دی؟

ج:

س6: معاشرے میں امن و سکون قائم کرنے کے لیے ہمیں کیسا رویہ اختیار کرنا چاہیے؟

ج:



Pakistan International School Jeddah

Federal Junior Section

Winter Vacation Holiday Grade-03 (2023-2024)

Subject : Mathematics **Name :** _____ **Section :** _____






Q1: Choose the Correct answer:

1. The sum of length of all sides of a closed figure is called,			
1- Area.	2- Perimeter.	3- Quadrilateral.	4-Symmetry.
2. Double of Radius is called,			
1- Point	2- Diameter	3- Radius	4- Line.
3. One cup contains how much milliliters,			
1- 330 ml.	2- 550 ml.	3- 5 ml.	4- 250 ml.
4. How many total days are there in one year.			
1- 365.	2- 325.	3- 300	4- None of these.
5. Which type of line is moving in one direction.			
1- Line.	2- Line Segment.	3- Ray.	4- None of these.
6. Capacity on any liquid we always measure in?			
1- m and cm.	2- kg and gram	3- liter and ml	4- none of them.
7. Which row of calendar show names of days?			
1- Second row.	2- first row	3- third row	4- none of them.

Q2: Read the statements Carefully and write "T" for True /"F"for False .:

- a) Mass of Bags of chips measure in kg. ()
- b) Tank of water measures always in liters. ()
- c) Close shapes of four corners and side is called Symmetry. ()
- d) Double of radius is called point. ()
- e) Time after 12:00 noon is measured in pm. ()
- f) Cup of water contain 300 grams of water. ()
- g) In Islamic and solar calendar, we have only 11 months. ()
- h) 3:30 times written in words 30 past 3 hours. ()

Q3: Match the Column:

Column -A	Column-B
Parallelogram.	
Circle.	
Right angle Triangle.	
Triangle.	
Trapezoid.	

Q4: Write the answers of following question in “One -Word”.

- 1: Starting point in geometry is called _____
- 2: The calendar which shows Solar months is called calendar _____
- 3: Anti-meridiem stands for _____
- 4: A line travelling in both direction is called _____
- 5: Large quantity in Mass measure in _____
- 6: One spoon contains _____ ml
- 7: We celebrate Eid-ul-Fitar on _____ Islamic date.
- 8: Weight of watermelon measures in _____

Q5: Write the short answers of following question.

- 1: 5 hours 10 min + 2 hours 6 minutes.

2: 2kg 500g + 4kg 100g.

3: 12L 158 mL – 2L 151 mL.

4: Write the names and draw any two (2) Quadrilateral family members?

5: Draw any 2 different symmetry shapes.

6: Write your name in Upper case letters and mark Symmetry letters with any color.

7: How to find out perimeter of a rectangle 2cm and 4cm?



8: Write the Islamic dates of Eid-ul-Fitar & Eid-ul-Azha?

9: Draw Hands of Analog Clock.



3 o' Clock



8 o' Clock

10: Memorize Table of 9, 10, 11.

Q6: Write the answers of following question in detail.

Q1: Asghar spends 8 hours in the school and how much time does he spend for other activities in a day?

Q2: Rabia bought 15 kg 940g of flour. She used 3kg 520 g of flour for making cake and 2kg 420 g for making bread. How much flour did she use altogether?

Q3: The milkman sells 8-liter 550 ml of milk on Monday. He sells 8-liter 300 ml on Tuesday. How much milk does he sell in both days?



Pakistan International School Jeddah

Federal Junior Section

Winter Vacation Work 2023-2024

Name : _____ Class/ Sec: _____ Subject . English

Q1: Choose the Correct answer:

1. Where did the dinosaurs come from?

A-South America B- Africa C-Pakistan D-none

2. John Horner made an exciting discovery in.....

A.1978 B.1968 C.1988 D.1958

3.Tipu Sultan was the ruler of

A-Bengal B-Mysore C-Hydrabad D-none

4.This dinosaur was a small meat-eating dinosaurs called

A. troodon B. maiasaurus C. Apatosaurus D. none

5. Who had helped Zymal create her Zee Bags?

A-her parents B. her friends C. Birbal D.-no one

6. Which of this is countable noun?

A. soup B. water C. banana D. oil

7.Gallimimus, can run per hour about

A.70 kilo meter per hour B.80 kilo meter per hour C.170 kilo meter per hour D.100 kilo meter per hour

8.Choose the adjective

A. girl B. eat C. noisy D. road

9.Which dinosarus had a big tube on its head

A. troodon B. maiasaurus C. Apatosaurus D. parasaurolophus

10.Can't is the opposite of

A. could B. can C. was D. is

Q2: Fill in the Blanks:

1. people use codes to send _____ messages.
2. Millions of the years ago dinosaurs _____ on the earth.
3. Most dinosaurs were_____.
4. Baby dinosaurs hatch from_____, just like baby chicken.
5. Dr. Horner discovered had _____ baby dinosaurs.
6. The nice coat belong to Elisa .It is _____ coat.
7. Let's _____basketball.
8. ___ Teacher has got blond hair and blue eye.
9. I _____ not idiot .
10. Yes Philip, I can lend you _____ computer .

Q3: True & False:

1. Dinosaurs laid eggs. _____
2. Baby maiasaurs had teeth. _____
3. Newborn maisaur babies had strong legs. _____
4. Baby maiasaurs hatched from eggs. _____
5. Baby maiasaurs stayed in the nest for one week. _____
6. In ancient times there were no phones or computers. _____
7. Zymal gave money to children. _____
8. Maiasaurs were meat eating dinosaurs. _____
9. A mother maiasaurs sat on her eggs to keep them warm. _____
10. Nasreddin returned the money to poor man. _____

Q4: Question & Answer:

Q1: For how many millions of years did dinosaurs live on Earth?

Q2: What did Nassreddin do with the bag of money ?

Q3: What did the poor man do while he ate his dry bread?

Q:4 Why is plastic rubbish bad ?

**Q:5 Decode this secret instruction
FDNAQ DA LBHE YRSG YRT.**

Q3: Write the past tense form of the following verbs. /2

Present tense	Past tense	Present tense	Past tense
1. Plan		2. Wash	
3. Ride		4. Speak	
5. Wait		6. Open	

Q4: Use these words into a sentence. Do not change the form of the words.

a. Wonder

b. Amazed

c. Discovery

d. Healthy



پاکستان انٹرنیشنل سکول العزیز یہ جدہ

فیڈرل جونیئر سیکشن

موسم سرما کی چھٹیوں کا ہوم ورک

جماعت: سوئم مضمون: اردو

سوال نمبر 1: درست جواب پر دائرہ کا نشان لگائیں۔

1- آدمی کو سفر کے دوران ----- نظر آیا۔
ا- پہلوان ب- کنواں ج- بزرگ د- شاعر
2- بیل کی مونٹ ----- ہے
ا- بکری ب- بھیڑ ج- گائے د- بچھیا
3- <u>سردی</u> ہو یا ----- ہر موسم کا اپنا مزہ ہے۔ خط کشید لفظ کی ضد لکھیے
ا- گرمی ب- بہار ج- خزاں د- جاڑا
4- پاکستان میں واقع جھیل ----- کا شمار دنیا کی حسین ترین جھیلوں میں ہوتا ہے
ا- کینچنچھر جھیل ب- منچھر جھیل ج- عطا آباد جھیل د- سیف الملوک جھیل
5- جون کے بعد ----- مہینہ آتا ہے
ا- اگست ب- اکتوبر ج- جولائی د- اپریل

س 2- خالی جگہ پر کریں۔

1- قائد اعظم رحمۃ اللہ علیہ نے بیماری کے آخری دن _____ گزارے۔

2- نظم بلوکا بستہ ایک _____ نظم ہے۔

3- چھینک یا کھانسی آنے پر منہ پر _____ رکھ لینا چاہیے۔

4- ڈر کا مترادف _____ ہے۔

5- عید الفطر _____ کا دن ہے۔

6- پہلے زمانے میں لوگ _____ پر سفر کرتے تھے۔

س 3- سوالات کے جوابات دیجئے۔

س 1- ہمیں جانوروں کے ساتھ کیسا سلوک کرنا چاہیے۔

2- بلو کا گھوڑا کس چیز کا بنا ہوا تھا؟

س 3- پاکستان کے پرچم کا رنگ کیا ہے؟

س 4- دنیا کا دوسرا بلند ترین پہاڑ کے - ٹو کہاں ہے؟

س 5- پاکستان کے کتنے صوبے ہیں؟ ان کے نام لکھیے۔

س6- بلوڪے بستی میں کون کون سے کھلونے تھے نام لکھیے۔

س7- سال کا پہلا اور آخرین مہینہ کون سا ہے؟

س4- مندرجہ ذیل الفاظ کے متضاد لکھیے۔

مشکل، بھاری، شام، اندھیرا، باہر، خوبصورت، خوش بو، دوستی، مشرق

س5- جملے لکھیں۔

پیاں۔ اچھا۔ وطن۔ صفائی۔ عید

پاکستان انٹرنیشنل سکول العزیزہ جدہ
فیڈرل جوئیر سیکشن
موسم سرما کی چھٹیوں کا کام (2023-2024)



نام:	جماعت: سوم	جماعت / سیکشن:
------	------------	----------------

n

سوال نمبر 2: سورة الماعون یاد کریں۔

سوال نمبر 3: اسماء الحسنى یاد کریں (61-70)۔

سوال نمبر 4: سفر کی دعا یاد کریں۔

سوال نمبر 5: تشہد یاد کریں۔

سوال نمبر 6: درود ابراہیمی یاد کریں۔



Pakistan International School Jeddah
Federal Junior Section
Winter Vacations Work (2023-2024)

Name: _____

Grade: 3

Subject: Science

Q1: Choose the Correct answer:

1. Food is divided into _____ major groups.			
a. two	b. three	c. four	d. five
2. The food which contains all the nutrients in the required amount is called _____.			
a. Balanced diet	b. Unbalanced diet	c. Proper diet	d. Regular diet
3. _____ is the modified form of telephone.			
a. Internet	b. Electricity	c. Cellular phone	d. Computer
4. _____ food group is a rich source of vitamins and minerals.			
a. Fruits and vegetables	b. Protein	c. Fat	d. Grain
5. _____ saves us from disease.			
a. Electricity	b. Medicines	c. Aero plane	d. Computer
6. Sparrow and bear are _____			
a. Plant - eating animals	b. Meat -eating animals	c. Plant and meat -eating animals	d. None
7. Which food group helps in the proper growth of children?			

a. Grains	b. Fruits and vegetables	c. Dairy	d. Fats
8. Lack of balanced diet causes _____			
a. Strong bones	b. diseases	c. reduced mental health	d. fitness
9. _____ is an exercise to keep the body active.			
a. Doing homework	b. Playing video games	c. Swimming	d. Eating
10. Which of the following is an example of invention?			
a. Electricity	b. Sun	c. Solar energy	d. Shopping

Q2: Fill in the Blanks:

1. _____ are the part of the plant that absorb sunlight.
2. _____ and _____ are primary sources of protein.
3. Air, water and sunlight are used to make _____ in plants.
4. _____ are rich sources of carbohydrates and provide energy.
5. _____ is a great invention in the field of communication.
6. Horse is a _____ eating animal.
7. Dry fruits provide _____ and _____.

Q3: True & False:

1. There are five different eating habits of animals. ()
2. Milk belongs to the dairy group. ()
3. The creation of a new thing that never existed before is called an inventor.
()

4. Aero plane has made people come closer by reducing distances. ()
5. Computer is an invention which does not run on electricity. ()
6. The uses of computer in business are complex calculations and money transfer. ()
7. Meat belongs to the dairy group. ()

4- Write the short answers of following questions.

1. Name three meat-eating animals.

2. What does meat items provide us?

3. Name some grains.

4. Define a balanced diet.

5. What is the purpose of doing physical exercise?

6. Define an invention.

7-Give examples of some major inventions.

8-What is internet?

9-How does a computer help in medicine?

10- Why should we eat dry fruits?



**Pakistan International School Jeddah
Federal Junior Section**

Winter Vacations Work (2023-2024)

Name: _____ Subject: Islamic Studies

Q1: Choose the Correct answer:

1. The meaning of salam is			
A. peace be upon you	B. how are you?	C. God bless you	D. None of them
2. Taking a bath daily is			
A. Good performance	B. good deed	C. good practice	D. None of them
3. An Agreement was made with the _____ and neighboring tribes for peace and friendly relation			
A. Jews	B. Muslims	C. Christian	D. Hindus
4. The Prophet (SAW) stayed in Qubaa for			
A. few days	B. few weeks	C. few months	D. None of them
5. The 1 st step of wudhu is			
A. Wash face	B. Rinse mouth	C. Rinse nose	D. Wash hands
6. Salam is good wishing among			
A. Muslims	B. Christians	C. Hindus	D. Jews
7. A Muslim should follow the way of			
A. Muhammad (SAW)	B. the imam	C. the Sufis	D. None of them
8. Al-Amin and as-Sadiq was title of			
A. Prophet Muhammad	B. Prophet Nuh	C. Prophet Dawood	D. Prophet Musa
9. A Muslim greets a Muslim by saying			
A. Assalam u alaikum	B. Hello	C. Good morning	D. None of them
10. The 3 rd step of wudhu is			
A. Rinse mouth	B. Wash hands	C. Rinse nose	D. Wash face

Q2. Fill in the Blanks.

1. We cannot offer salah without _____.
2. The smaller group should say salam to the _____ one.
3. Taking a bath on Friday is a _____.
4. A Muslim should say _____ after finishing a meal.
5. Thanking Allah increases His _____.
6. Salam shows all Muslims are _____.
7. Salam is a unique greeting in _____.
8. A Muslim must always be _____ to Allah.
9. Salam is an _____ greeting.
10. Wudhu makes a Muslim _____.

Q3. Fill in the Blanks.

1. After meal we should praise Allah. ()
2. Peace and security were achieved in Madinah. ()
3. There is no du'aa at the time of dressing. ()
4. Islam teaches us the manner of talking with others ()
5. We may talk with another privately if we are three. ()
6. Before eating we should make ghusl. ()
7. The Prophet (SAW) became the leader in Madinah. ()
8. The children of Madinah greeted Rasulullah with a feast. ()
9. A Muslim should not hurt the feelings of others. ()
10. There is no du'aa at the time of dressing. ()

Q4. Question & Answer.

1. What did Rasulullah do after arriving in Madinah?

Ans. _____

2. What is Wudhu?

Ans. _____

3. In what year did the Prophet (ﷺ) perform Hajj, and what is it called?

Ans. _____

4. What should a Muslim say before eating?

Ans. _____

5. To whom should a Muslim say salam?

Ans. _____

6. What is a Muslim obligated to do at least once a week?

Ans. _____

7. Upon returning to Madinah, what happened to the Prophet (ﷺ)?

Ans. _____

8. What is the response to the greeting of salam?

Ans. _____

9. What does salam create among Muslims

Ans. _____

10. What should a Muslim do when he meets another Muslim?

Ans. _____



Pakistan International School Jeddah

Federal Junior Section

Winter Vacation Work



Subject: Computer

Name: _____

Class/ Sec: _____

Q1: Choose the Correct answer:

1. MS _____ application is used to create documents.			
A. Word	B. PowerPoint	C. Excel	D. Microsoft
2. The options used to create a list in MS Word are called?			
A. Bullets	B. Numbering	C. Both	D. None
3. This mode allows you to view the document in full screen.			
A. Print Layout	B. Web Layout	C. Read Mode	D. Minimize
4. Which option lets you apply the same formatting to another object?			
A. WordArt	B. Shape Outline	C. Edit Shape	D. Format Painter
5. This gallery lets you quickly add visual style to the selected shape.			
A. WordArt	B. Quick Style	C. Layout	D. None
6. To make the text bold, press _____ keys.			
A. Ctrl+I	B. Ctrl+B	C. Ctrl+F	D. Ctrl+E
7. To move one line up, press _____			
A. Up Arrow	B. Down Arrow	C. Home	D. End
8. To apply effects to a selected text, press _____ button.			
A. Text Fill	B. Text Effects	C. Text Outline	D. Layout

Q2: Fill in the Blanks:

1. To find a text in the document, press _____ keys.
2. To align the text to the left, press _____ keys.
3. To save a document, press _____ keys.
4. _____ button changes the shape of your drawing.
5. To align the text to the right, press _____ keys.
6. To remove bullet or numbering, press the _____ key twice.
7. _____ can be used in your document to outline, arrange, and emphasize text.
8. Making the pictures free-floating is referred to as _____.

Q3: True & False:

1. To underline the text, press Ctrl+U key.
2. To stop using Format Painter, press the ALT key on the keyboard.
3. Pictures are free floating in Word.
4. Justify means to distribute your text evenly between the margins.
5. To delete an object, press the Spacebar key.
6. Formatting means to beautify the text or objects in your document.
7. Click on the equal sign around the table border to add a column or a row.
8. Shapes are not free-floating in Word.

Q4: Question & Answer:

Q1: How can we stop using bullets and numbering with Enter key?

Q2: What do you mean by bullets?

Q3: Which view is the default document view in MS Word?

Q4: What is the use of a table in a document?

Q5: If some text is deleted by mistake, which keys are used to reverse the action?

Q6: How to format the text in MS Word?

Q7: What do you mean by formatting?

Q8: What is the purpose of MS Word application?

پاکستان انٹرنیشنل سکول العزیزہ جدہ

فیڈرل جوئیر سیکشن

2nd Term (2023-2024)



Grade :3

Subject :Arabic

Winter Holiday Work

REVIEW SHEET

1-الدرس التاسع 2-الدرس العاشر. 3-الدرس الحادي عشر. 4-الدرس الثاني عشر.

درست جواب پر دائرہ کا نشان لگائیں۔

1. يَكْتُبُ كَايَا مَعْنَى هُوَ؟			
He reads. وہ پڑھتا ہے	He writes. وہ لکھتا ہے	He walks. وہ چلتا ہے	He plays. وہ کھیلتا ہے
2. صَلَاةُ الْفَجْرِ كِي رَكَعَاتٍ هِيَ؟			
Four rakaat. اربع ركعات	Two rakaat ركعتان	Three ثلاث ركعات rakaat	Five خمس ركعات rakaat
3. يَأْكُلُ كَايَا مَعْنَى هُوَ؟			
He eats وہ کھاتا ہے	He cleans وہ صاف کرتا ہے	He walks. وہ چلتا ہے	He reads. وہ پڑھتا ہے
4. تَغْسِلُ كَايَا مَطْلَبٌ هُوَ؟			
She eats وہ کھاتی ہے	She writes. وہ لکھتی ہے	She walks وہ چلتی ہے	She washes وہ دھوتی ہے
5 - "احب" كَا مَطْلَبٌ هُوَ؟			
None of all	Hate نفرت	Rooster مرغ	Love محبت
6 صَلَاةُ الظُّهْرِ كِي رَكَعَاتٍ هِيَ؟			

Four rakaat. أربع ركعات.	Two rakaat ركعتان	Three ركعات rakaat	Five ركعات rakaat
7 صلاة المغرب کی رکعات ہیں؟			
Four rakaat. أربع ركعات.	Two rakaat ركعتان	Three ركعات rakaat	Five ركعات rakaat
8. مَدِينَة کا کیا ترجمہ ہے؟			
Country ملک.	Cities بہت سارے شہر -	City شہر -	House گھر -
9 يَمْشِي کا کیا معنی ہے؟			
He reads. وہ پڑھتا ہے	He writes. وہ لکھتا ہے	He walks. وہ چلتا ہے	He plays. وہ کھیلتا ہے
10 يَنْظِفُ کا کیا معنی ہے؟			
He eats وہ کھاتا ہے	He cleans وہ صاف کرتا ہے	He walks. وہ چلتا ہے	He reads. وہ پڑھتا ہے
11 تَمْشِي کا کیا مطلب ہے؟			
She eats وہ کھاتی ہے	She writes. وہ لکھتی ہے	She walks وہ چلتی ہے	She washes وہ دھوتی ہے
12 صلاة العشاء کی رکعات ہیں؟			
Four rakaat. أربع ركعات.	Two rakaat ركعتان	Three ركعات rakaat	Five ركعات rakaat
13 . بَيْتِي کا کیا ترجمہ ہے؟			
All over	Your house آپ کا گھر -	My house میرا گھر -	House گھر -
14. "علم" کا ترجمہ ہے؟			
None of all	House گھر	City شہر	جھنڈا Flag
15. " دولة " کا مطلب ہے؟			
None of all	Country ملک	جھنڈا Flag	City شہر

خالی جگہ پر کریں۔

1. مَاذَا تَفْعَلُ عَائِشَةُ؟-----
2. بَاكِسْتَانُ دَوْلَةٌ-----
3. صَلَاةُ الْعَصْرِ-----
4. مَدِينَةُ إِسْلَامِ أَبَادٍ----- وَطَنِي۔
5. احب-----

مندرجہ ذیل الفاظ کے عربی میں جملے بنائیں۔

جملے	الفاظ
	1- يَنْظِفُ
	2- تَغْسِلُ
	3- تَأْكُلُ
	4- يَجْلِسُ
	5- يَشْرَبُ

کالم ملائیں

<u>کالم (ب)</u>	<u>کالم (ا)</u>
• فی الیوم خمس صلوات	1. ماذا تفعل قبل الصلاة
باکستان	2. لون علم وطني
• أتوضأ قبل الصلاة	3. الى اين تذهب مع ابيك؟
• اذهب مع ابي الى المسجد	4. كم صلاة في اليوم؟
• اخضر وابيض	5. وطني

درج ذیل جملے پڑھیں اور اردو یا نگلش میں ترجمہ کریں۔

1. -اصلي كل يوم-

2. -احب ان اصلي في المسجد

3. -أعرف عدد ركعات الصلاة

4. -المسجد قَريب من بيتي

5. -اسلام آباد عاصمة باكستان

6. -باكستان دولة اسلامية

عربي میں مختصر جواب دیں۔

- س1: مَاذَا يَفْعَلُ أَحْمَدُ؟
ج: _____
- س2: مَاذَا يَكْتُبُ أَحْمَدُ؟
ج: _____
- س3: مَاذَا يَلْعَبُ خَالِدُ؟
ج: _____
- س4: مَاذَا تَقْرَأُ فَاطِمَةُ؟
ج: _____
- س5: مَاذَا تَشْرَبُ عَائِشَةُ؟
ج: _____



Pakistan International School Jeddah

Federal Junior Section

Winter Vacation Homework

Subject: Social Studies

Class: III

Student Name: _____ Class/Sec: _____



Q1: Choose the Correct answer:

1. _____ lives close by us.			
A. teacher	B. neighbour	C. driver	D. acrobat
2. The name of the author is written on the _____ of the book.			
A. back	B. before	C. cover	D. between
3. We should be kind to our _____ and look after them.			
A. neighbours	B. teachers	C. friends	D. bosses
4. We use our _____ to see the beautiful scenery around us.			
A. nose	B. tongue	C. nose	D. eyes
5. We must not fight with our _____ and play with them.			
A. friends	B. enemy	C. boss	D. teacher
6. _____ increases our knowledge.			
A. books	B. hotel	C. tv	D. camera
7. Which organ helps us to taste delicious food?			
A. eye	B. ear	C. nose	D. tongue
8. Animals need _____ to survive.			
A. air	B. tv	C. phone	D. trees
9. Plants take in _____ in daytime and take out oxygen.			
A. oxygen	B. carbondioxide	C. argon	D. sulphur
10. _____ looks after us and takes care of us when we are sick.			
A. Parents	B. adults	C. teachers	D. drivers

Fill in the blanks:

1. Humans need _____ to breathe.

2. Many schools have _____.
3. It is our duty _____.
4. Factories give out _____ and harmful chemicals.
5. Our _____ looks after us when we get sick.
6. I smell with my _____.
7. The skeleton gives the body its _____.
8. The writer of the book is called an _____.

Q3: True & False:

1. We should misbehave with everyone. ()
2. Our body is like a book. ()
3. Wind is moving air. ()
4. Some people write school books and some people write stories. ()
5. Wind can cool the body. ()
6. Sharing and caring are not two important ways to be helpful. ()
7. Muscles help the body to sleep. ()
8. A shopkeeper looks after the library. ()

Q4: Question & Answer:

Q1: What does the digestive system consist of?

Q2: Who do we live with?

Q3: Which gas do we take in when we breathe?

Q4: Why is air important?

Q5: What is a library?

Q6: How can we learn new things?

Q7: What are the two important ways to be helpful

Q8: With whom should we spend our festivals?
